





Karta pracy nr 2

Klasa 2 - maj - blok 2 - dzień 1

Zadanie 1

Wytnij z dołu strony odpowiednią godzinę i wklej pod właściwym zegarem.



Zadanie 2

Narysuj zegar ze wskazówkami pod zapisaną godziną.

6.20

10.05

13.15

16.50

Zadanie 3

Jak rozwiążesz to zadanie?

Samolot do Berlina wylatuje z Warszawy 75 minut po godzinie 11. Lot trwa godzinę. O której samolot doleci do Berlina?

Do wycięcia:

7.30

21.55

14.20

5.15

18.45



Karta pracy nr 2



Klasa 2 - maj - blok 2 - dzień 1

Zadanie 4

Podczas święta uchwalenia Konstytucji 3 Maja, Polacy wywieszają biało-czerwone flagi.

Odczytaj informacje pod tabelą i uzupełnij cennik.



Rozmiar flagi		
Mała	zł	22 zł
Średnia	36 zł	zł
Duża	86 zł	zł

Mała flaga z godłem jest droższa od małej flagi bez godła o 8 zł. Ile kosztuje mała flaga z godłem?

Rozwiązanie

Odpowiedź

Średnia flaga z godłem jest droższa od średniej flagi bez godła o 12 zł. Ile kosztuje średnia flaga bez godła?

Rozwiązanie

Odpowiedź

Duża flaga bez godła jest tańsza od dużej flagi z godłem o 11 zł. Ile kosztuje duża flaga bez godła?

Rozwiązanie

Odpowiedź

Karta pracy nr 2

Klasa 2 - maj - blok 2 - dzień 1



Ile trzeba zapłacić za małą flagę bez godła i średnią flagę z godłem?

Rozwiązanie

Odpowiedź

O ile droższa jest duża flaga z godłem, od średniej flagi z godłem?

Rozwiązanie

Odpowiedź

Zadanie 5

O co jeszcze możesz zapytać korzystając z informacji zawartych w zadaniu 4?

Ułóż i zapisz w zeszycie co najmniej jedno pytanie, rozwiąż i udziel odpowiedzi.